

- 1 - يمتد الوطن العربي في قارتين هما '
- 2 - البحر الذي يفصل بين قارتي اسيا وافريقيا يسمى
- 3 - يقع الوطن العربي بالنسبة لقارة اسيا في اقصى
- 4 - تستخدم أشجار الغابات المدارية الحارة في ,
- 5 - تعرف حشائش الاستبس في المغرب باسم وتصدر إلى الخارج لصناعة
- 6 - يبلغ مجموع الدول العربي حوالي دولة
- 7 - جمهورية جزر القمر تعرف عاصمتها باسم وانضمت الى جامعة الدول العربية عام.....
- 8 - اكبر دولة عربية في الجناح الافريقي هي
- 9 - من أهم محطات تحليه المياه التي انتشرت في الوطن العربي محطة في السعودية ومحطة
- 10 - تجري في الوطن العربي بعض النهار الهامة منها نهر..... في مصر ونهر دجلة والفرات في.....
- 11 - يشغل الوطن العربي% من جملة مساحة العالم وتبلغ مساحته مليون كم2
- 12 - عرفت الكتابة المصرية القديمة بالكتابة
- 13 - يطلق اسم بلاد الرافدين علي حاليا
- 14 - اخترع السومريون نوعا من الكتابة عرفت باسم وعدد حروفها حرف
- 19 - يتحكم الوطن العربي في ممر مائي هام يصل بين البحر المتوسط والبحر الاحمر يسمى.....
- 20 - يسيطر الوطن العربي على ثلاث مضائق بحرية هامة وهي '
- 21 - تقع جبال مرة في دولة بينما تقع جبال اطلس في دولة
- 22 - من أشهر ملوك سبأ الملكة التي جاء ذكرها في القرآن الكريم
- 23 - اشتهرت مملكة سبأ ببعض المعالم الهامة من بينها سد
- 24 - تقع هضبة نجد في دولة بينما تقع هضبة الشطوط في دولة
- 26 - تكون الشمس عاموديه على خط الاستواء ومدار السرطان في فصل بالوطن العربي

س2- (أ) صحح ما تحته خط في الجمل التالية واكتب الالعبارة الصحيحة بين الاقواس :-

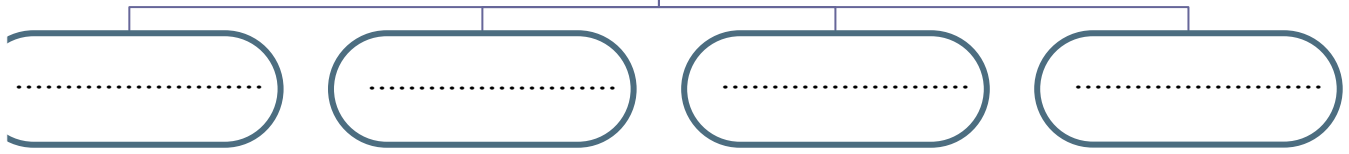
- 1 - المسطح المائي الذي يحد الوطن العربي من الغرب يسمى البحر الأحمر (.....)
- 2 - الدولة العربية التي تتكون من مجموعة جزر هي اليمن (.....)
- 3 - يربط مضيق هرمز بين الخليج العربي وخليج العقبة (.....)
- 4 - يربط مضيق باب المندب بين البحر الاحمر والبحر المتوسط (.....)
- 5 - يربط مضيق جبل طارق بين البحر المتوسط والمحيط الهند (.....)
- 6 - يقع الجبل الأخضر في دولتين هما ليبيا والسعودية (.....)
- 7 - تقع جبال الاحجار في موريتانيا (.....)
- 8 - تكون الشمس عامودية على خط الاستواء ومدار الجدي صيفا (.....) في الوطن العربي

ضع علامة (√) أم العبارة الصحيحة وعلامة (×) أم العبارة الخاطئة فيما يأتي :-

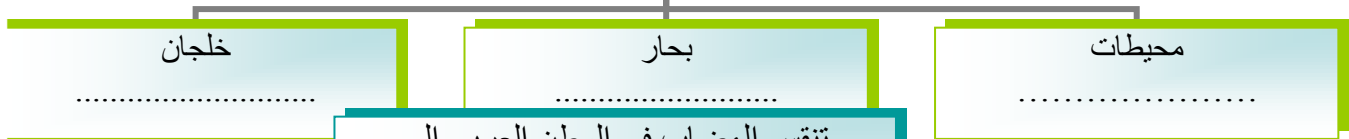
- 1- يختلف نوع حشائش السافانا حسب كمية الامطار ()
- 2- أعتمدت دولة على تحلية مياه البحر منذ بداية عام 1953م ()
- 3- تنمو حشائش الاستبس في الوطن العربي خلال فصل الصيف ()
- 7- تقع شبه الجزيرة العربية في جنوب شرق قارة آسيا ()
- 8- تتألف الابدجية في حضارة اليمن من 29 حرف وتكتب بالخط المسند ()
- 9- الاهرامات تعد من أشهر معالم دولة سبأ قديما ()
- 10- كانت تسمى حضارة دلمون قبل الفتح الاسلامي باسم أوال ()
- 11- نزل الوحي على الرسول صلى الله عليه وسلم في غار ثور ()
- 12- نزل القرآن الكريم على الرسول صلى الله عليه وسلم في عام 610م ()
- 13- المسطح المائي الذي يحد الوطن العربي من الشرق هو الخليج العربي ()

س3- اكمل المخططات السهمية التالية :-

مقومات الهوية العربية



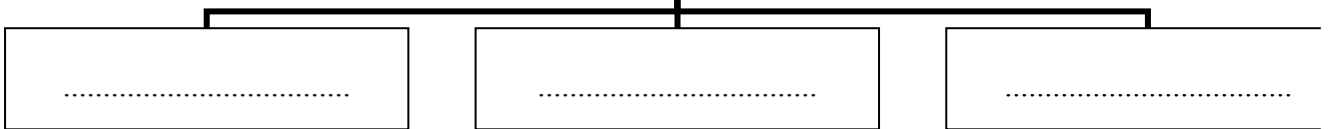
المسطحات المائية التي يطل عليها الوطن العربي



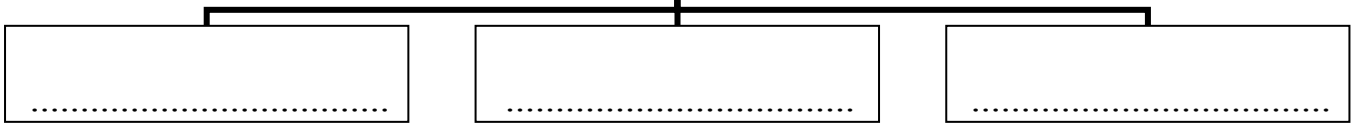
تنقسم الهضاب في الوطن العربي الى



الطرق التي انتقل منها الإسلام إلى أوروبا




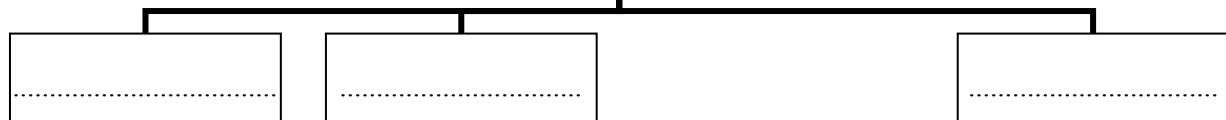
من أشهر المنتجات الزراعية لحضارة اليمن



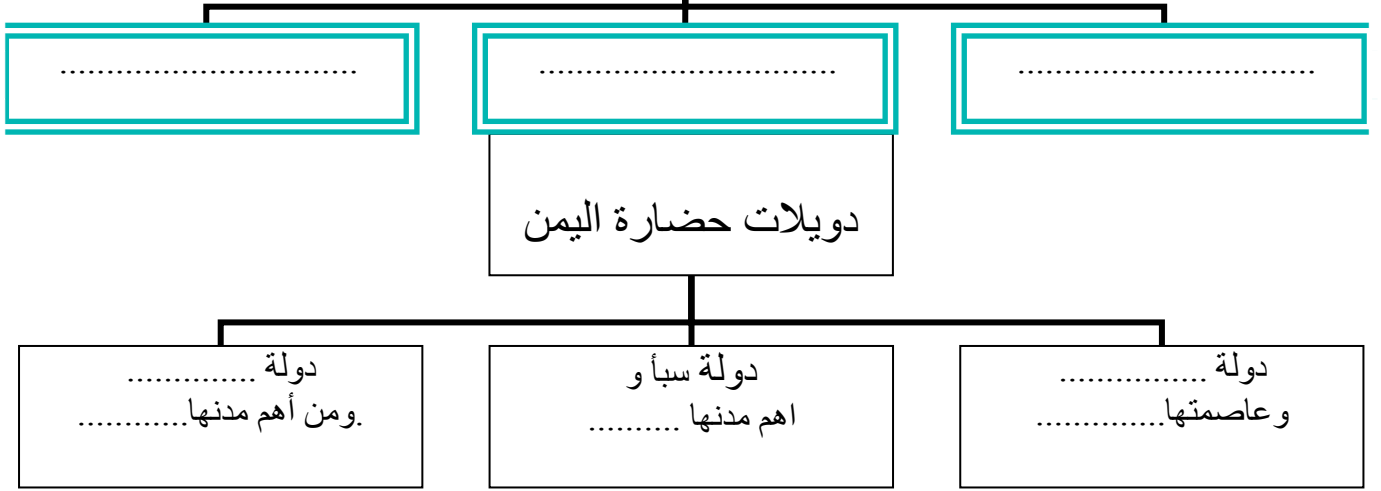
عناصر المناخ



تنقسم الحياة النباتية في الوطن العربي إلى



الديانات السماوية في الوطن
العربي



س4- ((أ)) قارن بين كلا مما يأتي حسب الجدول :-

القناة	المضيق

الغابات المدارية الحارة والغابات المعتدلة في الوطن العربي :-

أوجه المقارنة	مناطق انتشارها	صفة اشجارها	أهم اشجارها
الغابات المدارية			
الغابات المعتدلة			
أوجه المقارنة	خطوط الطول	دوائر العرض	
التعريف			
خط الأساس			

		عددها
		الاهمية
السهول الساحلية		السهول الفيضية
هي :.....		هي :.....
امثلة عليها في الحناح الاسيوي		امثلة عليها في الحناح الاسيوي
امثلة عليها في الحناح الافريقي		امثلة عليها في الحناح الافريقي
.....	

قارن بين الحياه الاقتصادية في حضارة مصر القديمة وحضارة بلاد الرافدين حسب الجدول :-

حضارة بلاد الرافدين	الحضارة المصرية القديمة	أوجه المقارنة
		أهم الصناعات
الطقس		المناخ

صنف أسماء الرياح المحلية التالية حسب الدول في الجدول الذي امامك :-

رياح الخماسين - الطوز - القبلي - السموم - الشرقية - الهبوب - السيروكو والسيلانو

السعودية	الجزائر	ليبيا	الكويت	مصر	العراق	السودان

س5- عرف المفاهيم التالية :-

- 1 - المسطحات المائية
- 2 - الموقع الاستراتيجي
- 3 - النهر
- 4 - البحيرة
- 5 - المياه الجوفية
- 6 - الوطن العربي
- 7 - الأفلاج

- 8 - الكتابة المسمارية.....
- 9 - الموقع النسبي.....
- 10 - الجبال.....
- 11 - أوال.....
- 12 - الهضاب.....
- 13 - السهول.....
- 14 - للتضاريس.....
- 15 - الضغط الجوي.....
- 16 - الإقليم.....
- 17 - النبات الطبيعي.....

س6- أجب عن الاسئلة الاتية :-

- 1 - اذكر الاهمية الاقتصادية للوطن العربي ؟
- أ -
ب -
- 2 - عدّد أهم الجبال في الوطن العربي التي تقع في الجناح الاسيوي ؟
- 3 - ما الخصائص المميزة للسهول في الوطن العربي ؟
- 4 - اكتب المناطق التي انتشرت فيها النباتات الصحراوية في الوطن العربي؟
- 5 - بيّن كيف تتكيف النباتات الصحراوية مع مناطق الجفاف مع ضرب أمثلة عليها ؟
- 6 - أوجد الله سبحانه وتعالى حيوانات وطيور وزواحف وحشرات في البيئة الصحراوية يتناسب تكوينها مع طبيعة هذه البيئة اذكر أمثلة عليها ؟
- 7 - تنافس الدول الاستعمارية في الاستيلاء على الوطن العربي منذ القرن (18م)؟ علل (اذكر السبب)
- 8 - اهتم العالم في السنوات الأخيرة بقضية المياه وظهرت هذه المشكلة بشكل واضح في وطننا العربي الحبيب فما مقترحائك عزيزي الطالب في حل هذه المشكلة ؟
- 9 - هل المياه متوفرة في الوطن العربي ؟ اذكر أهم الصفات التي يتصف بها المطر في الوطن العربي ؟

10- كان للعوامل الطبيعية دورا مهما في قيام الحضارة المصرية القديمة. اذكر هذه العوامل ووضح أهميتها؟

أ.....
ب.....
ج.....

11- الاماكن القريبة من خط الاستواء تتميز بارتفاع في درجة حرارتها على مدار السنة؟ علل

.....
12- اذكر العوامل التي تؤثر في مناخ الوطن العربي.....؟

أ -
ب
ج
د

13- حرص المصريين القدماء على تحنيط جثث موتاهم وبناء القبور وإقامة المقابر؟ علل (اذكر السبب)

.....
14- عدّد العلوم والفنون التي برع فيها المصريين القدماء؟

.....
15- ما العوامل التي ساعدت على قيام الحضارة في بلاد الرافدين؟

.....
16- المدن الساحلية اكثر اعتدالا في المناخ صيفا وادفئ نسبيا شتاء؟ علل

.....
17- اذكر أهم المنتجات التي كانت تستوردها وتصدرها بلاد الرافدين مع بلدان الأقاليم المجاورة؟

.....
18- أكتب أهم العلوم والفنون التي برع فيها سكان بلاد الرافدين؟

.....
21- ما العوامل الرئيسية المؤثرة على توزيع النبات الطبيعي في الوطن العربي؟

أ
ب

.....
22- يتمتع الوطن العربي بموقع استراتيجي مهم تجددت اهميته على مر العصور؟ علل

.....
23- تعتبر منطقة جنوب غرب شبه الجزيرة العربية من أكثر مناطقها ملائمة لقيام الحضارات؟ علل

.....
24- أهمية موقع حضارة دلمون وسط الخليج العربي؟ علل

.....
26- كانت أوروبا في القرن العشر الميلادي تعيش عصور ظلام؟ علل

.....
27 ضع الكلمات التالية في المكان المناسب في الفراغات التي امامك بالقطعة :-
(((بابلي – العين – حمورابي – السن – الامن والامان- 282)))

.....
)) ظهرت في بلاد الرافدين شرائع قانونية قديمة عدة ومن أهمها شريعة وهو ملك
..... احتوت هذه الشريعة على مادة قانونية وأعدمت مبدأ السن والعين
..... في تطبيقها مما أدى الى انتشار في البلاد.))

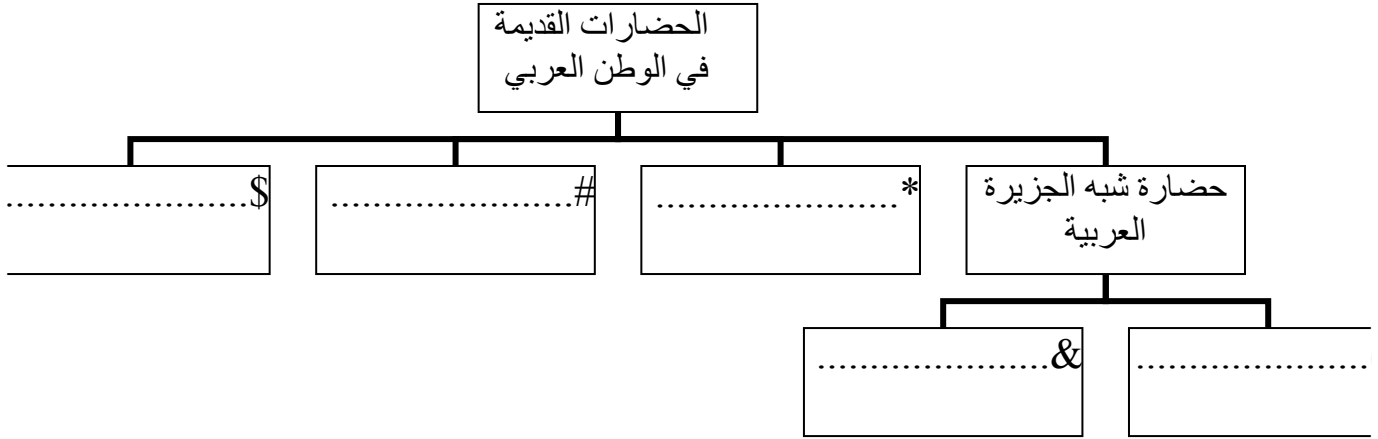
س7- أقرأ القطعة التي أمامك ثم أجب عن الأسئلة التي تليها :-

(((توفرت في الوطن العربي مجموعة المقومات الجغرافية والطبيعية التي ساعدت على قيام الحضارات الإنسانية التي استقرت في ربوع الوطن العربي الكبير
س ا عرف الحضارة؟.....

2- أذكر المقومات التي ساعدت على قيام الحضارات في الوطن العربي؟


- أ ب
ج د
و

3- أكمل المخطط السهمي التالي :-



الديانة	النبي المرسل	الكتاب الذي جاء به	المكان
الإسلام			
المسيحية			
اليهودية			

انظر إلى الأشكال التي أمامك ثم أجب عن الاسئلة التي تليها :-
1- أكتب ما تعبر عليه هذه الصور التي أمامك حسب دراستك للمنهج :-




.....

.....

2- أكتب ما تعبر عليه هذه الأشكال :-





تم تحميل الملف من
موقع مدرستي الكويتية
www.q8-online.com
هنا تجد كل ما تحتاجه من ملفات




1 - صنف كل حضارة حسب المعالم الأثرية التي تدل عليها :-

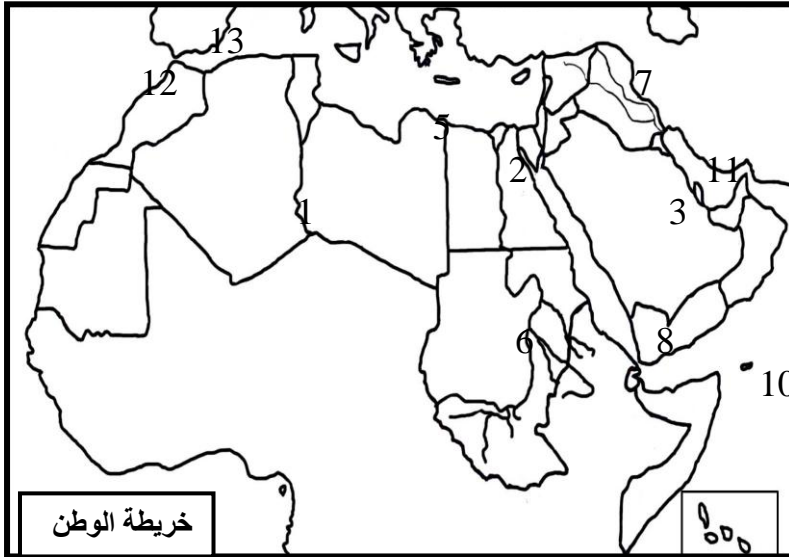
مصر القديمة - بلاد الرافدين - دلمون - اليمن - بلاد الشام



تتعدد مصادر المياه في الوطن العربي أكتب أشكال هذه المياه حسب الصور التي أمامك :-

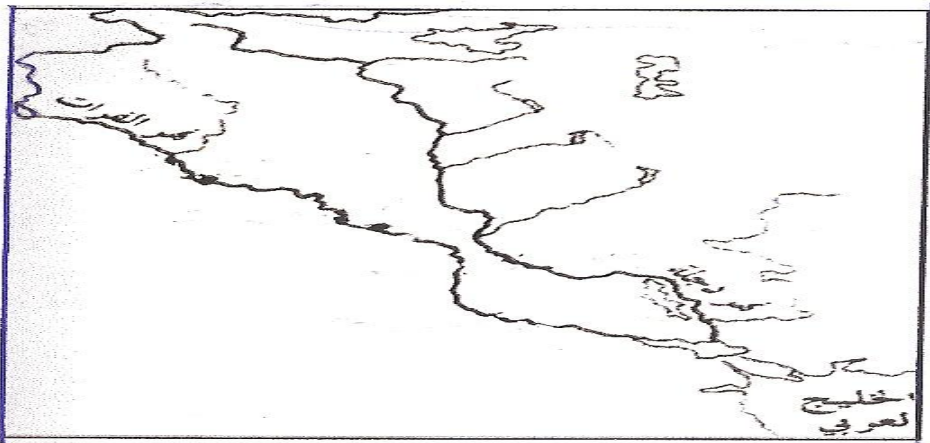


س7- (أ) أمامك خريطة الوطن العربي الصماء اكتب عليها مدلول الأرقام التي عليها وأسماء الدول العربية



- 1- جبل
- 2- سهل فيضي
- 3- هضبة
- 5- سهول ساحلية
- 6- جبال
- 7- نهر
- 8- قناة
- 10- بحر
- 11- خليج
- 12- محيط
- 13- مضيق

(ب)- أمامك خريطة صماء لبلاد الرافدين اكتب عليها أسماء الحضارات التي قامت فيها حسب مناطق تواجدهم



مع تمنيات قسم الاجتماعيات لكم بالتوفيق والنجاح الدائم